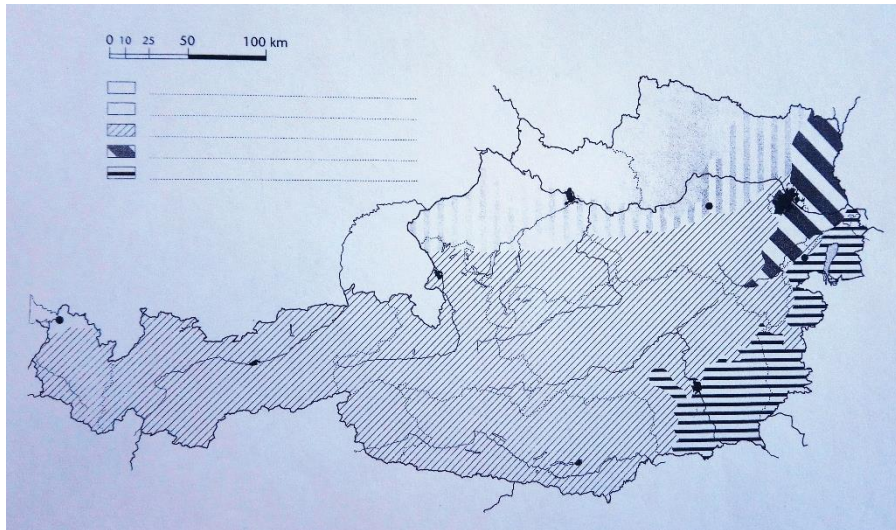


Name: \_\_\_\_\_

## Das Wiener Becken



Male das Wiener Becken  
im Bild rot an!

Welche Bundesländer  
haben Anteil am Wiener  
Becken?

---

---

---

Suche im Atlas eine thematische Karte von Österreich zum Thema Wirtschaft. Auf welcher Seite findest du solch eine Karte? Du darfst diese Karte zur Beantwortung der nächsten Fragen verwenden.

---

Welche land- und forstwirtschaftlichen Produkte werden im Wiener Becken angebaut? Du darfst zur Beantwortung der Frage den Atlas und das Schulbuch verwenden.

---

---

Welche Produkte aus dem Wiener Becken nutzt bzw. verwendest du und deine Familie?

---


---

Was bedeutet dieses Zeichen  aus der Legende?

---

Name: \_\_\_\_\_

Was bedeuten diese Zeichen aus der Legende? Schreibe daneben den dazugehörigen Begriff.



\_\_\_\_\_

\_\_\_\_\_

\_\_\_\_\_

\_\_\_\_\_

\_\_\_\_\_


\_\_\_\_\_

\_\_\_\_\_

\_\_\_\_\_

\_\_\_\_\_

\_\_\_\_\_



\_\_\_\_\_

\_\_\_\_\_

\_\_\_\_\_

\_\_\_\_\_

Wie lautet der Oberbegriff für diese Symbole?

\_\_\_\_\_

Befinden sich die Industriezweige nördlich oder südlich der Donau? Schreibe diese Information neben das Zeichen und zeichne das Symbol in der Karte an der richtigen Stelle ein.



\_\_\_\_\_

\_\_\_\_\_

\_\_\_\_\_

\_\_\_\_\_

\_\_\_\_\_

\_\_\_\_\_

\_\_\_\_\_

\_\_\_\_\_

\_\_\_\_\_

\_\_\_\_\_



Name: \_\_\_\_\_

Ist deiner Meinung nach die wirtschaftliche Nutzung im Wiener Becken vielfältig? Begründe deine Antwort!

---

---

Was weißt du zum Thema Erdöl? Gibt es im Wiener Becken eine Erdöl-Raffinerie?

---

---

---

---

---

---

---

---

Suche mithilfe einer Verkehrskarte im Atlas die wichtigsten Verkehrswege im Wiener Becken und schreibe diese hier auf.

---

---

---

Was sind deiner Meinung nach die vier wichtigsten Informationen über das Wiener Becken?

---

---

---

---