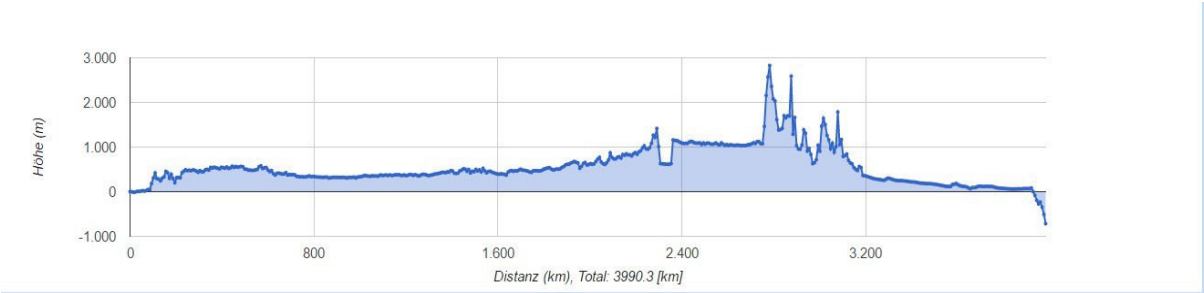
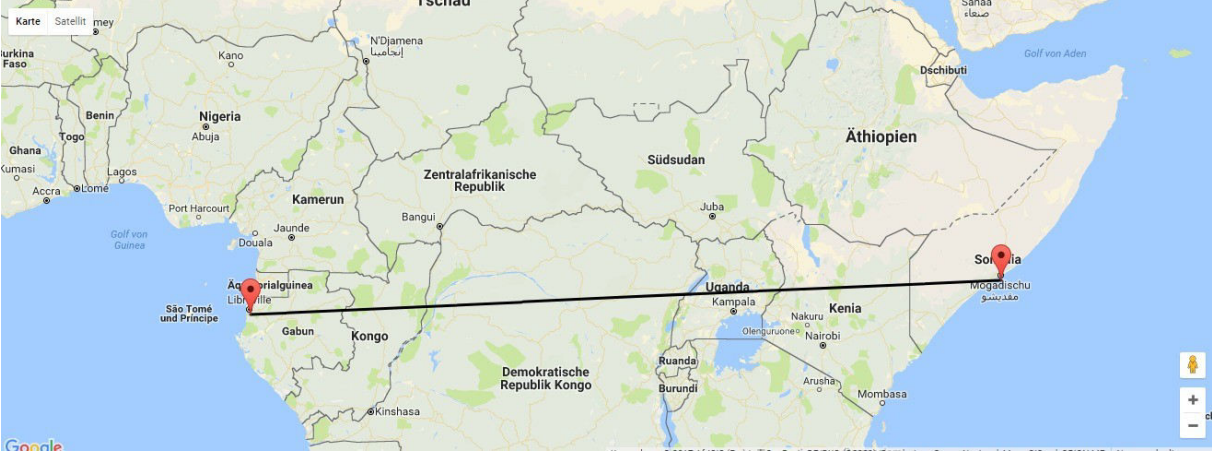


# Höhenprofil von Kinshasa (Kongo) nach Mogadischu (Somalia)



Zwei Positionen entlang der Profillinie herausgreifen, an denen unterschiedliche Lebensbedingungen bestehen. Multimediale Daten zum „Leben und Wirtschaften“ der Menschen aus den zwei Städten sammeln. (Fotos, Videos, schülerlesbare Texte, Diagramme, etc.)  
Beschreibung: Titel, Langbeleg, Typ des Mediums, rechtliche Verfügbarkeit, kurze Inhaltsbeschreibung

## Kinshasa

**Titel: Wirtschaft und Wirtschaftsstandort Kinshasa**

Typ: Internetseite

Rechtliche Verfügbarkeit: AmbiWeg GmbH

Inhaltsbeschreibung: Mit Zwölf Millionen Einwohnern ist Hauptstadt der Demokratischen Republik Kongo ein wirtschaftlich wichtiges und überregionales Zentrum in Zentralafrika. Der Kongo-Fluss ist die Lebensader der Stadt, auf dem wichtige Rohstoffe aus dem Landesinneren nach Kinshasa gebracht und von dort aus verarbeitet und in die ganze Welt verschifft werden. Außerdem ist der Tertiäre-Wirtschaftssektor (Handel mit Textilien, Baustoffen und Nahrungsmittel) stark ausgeprägt.

Link: <http://www.fachgruppe-geld.de/artikel/598>

**Titel: Bevölkerungsentwicklung Kinshasa**

Typ: Internetartikeln

Rechtliche Verfügbarkeit: New World Encyclopedia

Inhaltsbeschreibung: Die Bevölkerungszahl ist von 40.000 in den 1930er Jahren auf 12 Millionen im Jahr 2016 angestiegen. Da die Sicherheitslage in der kongolesischen Hauptstadt, im Vergleich zu anderen Landesteilen, als relativ stabil gilt, findet ein Zuzug statt, der die Stadt kontinuierlich wachsen lässt. Sie ist sowohl die zweitgrößte Stadt Afrikas, als auch die zweitgrößte frankophone Stadt nach Paris. Die dominierende Sprache ist Französisch und der Großteil der Stadtbevölkerung ist christlich geprägt. Da mehr als 50 % der in Kinshasa lebenden Menschen unter 22 Jahre alt ist, steht die Stadt vor enormen demographischen Herausforderungen.

Link: <http://www.newworldencyclopedia.org/entry/Kinshasa#Demographics>

**Titel: Geschichte, Geographie, Politik und Sehenswürdigkeiten von Kinshasa**

Typ: Artikel

Inhaltsbeschreibung: Kinshasa (früher auch unter Leopoldville bekannt) ist Sitz der kongolesischen Regierung sowie aller staatlichen Zentralbehörden. Die Stadt verfügt über zahlreiche Bildungseinrichtungen und ist auch das kulturelle Zentrum des Landes. Gegründet wurde sie 1881 vom belgischen König als Handelsposten und hat sich seither zur zweitgrößten Stadt Afrikas entwickelt.

Rechtliche Verfügbarkeit: Encyclopaedia Britannica

Link: <https://www.britannica.com/place/Democratic-Republic-of-the-Congo>

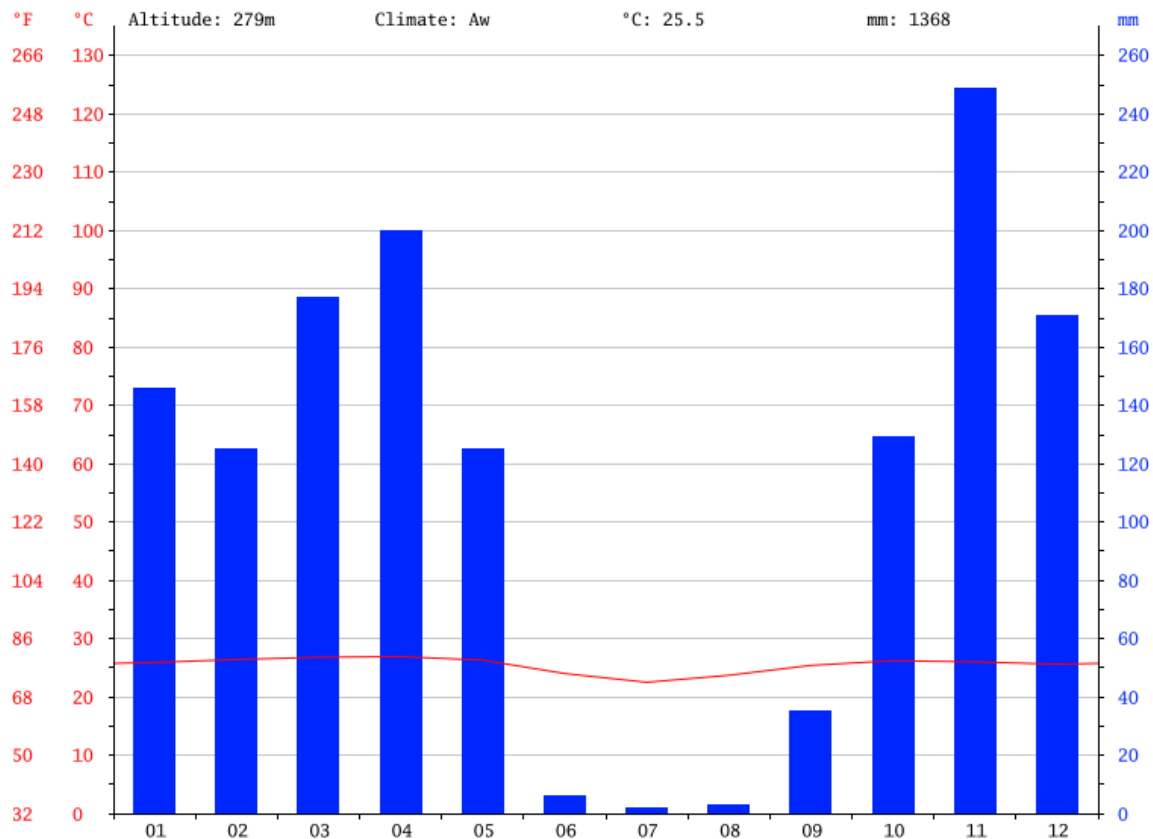
**Titel: Klima- und Temperaturdiagramm Kinshasa**

Typ: Diagramm

Beschreibung: Kinshasa befindet sich in der tropischen Klimazone. Die Hauptregenzeit ist zwischen Oktober und Mai, während von Juni bis September eine Trockenzeit herrscht. Die Temperaturkurve ist das ganze Jahr über relativ konstant und auf einem Niveau von 25 Grad Celsius angesiedelt.

Rechtliche Verfügbarkeit: AM Online Projects – Alexander Merkel

Link: <https://en.climate-data.org/continent/africa/>



Titel: **Statistiken zu Kinshasa & Kongo**

Typ: Statistik

Rechtliche Verfügbarkeit: United Nations Statistics Division

Link: <http://data.un.org/CountryProfile.aspx?crName=democratic%20republic%20of%20the%20congo>

## Mogadischu

Titel: **Wirtschaft und Wirtschaftsstandort Mogadischu**

Typ: Wikipedia Eintrag

Rechtliche Verfügbarkeit: öffentlich

Inhaltsbeschreibung: Mogadischu ist das wirtschaftliche Zentrum Somalias. Die Stadt leidet unter Terror und Gewalt und eine stabile Infrastruktur für erfolgreiches wirtschaften ist somit kaum gegeben. Dennoch wurden Investitionen im Bereich des Bauwesens und Industrie von zahlreichen arabischen Ländern und der Türkei getätigt, das in den letzten Jahren für einen kleinen Aufschwung sorgte. Die Lebensader und Motor für die wirtschaftliche Entwicklung sind der Schiffshafen und der internationale Flughafen.

Link: [https://de.wikipedia.org/wiki/Mogadischu#Wirtschaft\\_und\\_Infrastruktur](https://de.wikipedia.org/wiki/Mogadischu#Wirtschaft_und_Infrastruktur)

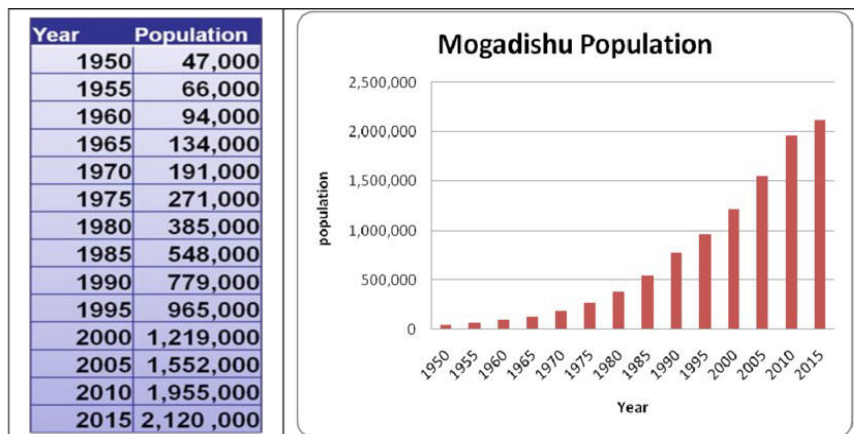
**Titel: Bevölkerungsentwicklung Mogadischu**

Typ: Internetartikeln

Rechtliche Verfügbarkeit: taz Verlags u. Vertriebs GmbH

Inhaltsbeschreibung: Die genaue Bevölkerungsanzahl der somalischen Hauptstadt ist nicht bekannt, da keine Volkszählungen durchgeführt werden. Im Jahr 2016 wurde davon ausgegangen, dass 2,5 Millionen Menschen in der Stadt leben, da die politische Lage in den letzten Jahren relativ stabil war. Da Mogadischu unter der Kontrolle der Regierung ist, und nicht von Islamisten-Milizen, ist die Stadt im Vergleich zu anderen Regionen Somalias relativ sicher und erlebt somit einen Bevölkerungszuwachs durch Zuzug aus den restlichen Landesteilen. Die Bevölkerung ist fast ausschließlich muslimisch und arabisch-sprechend.

Link: <http://worldpopulationreview.com/countries/somalia-population/cities/>



**Titel: Geschichte, Geographie, Politik und Sehenswürdigkeiten von Mogadischu**

Typ: Wikipediaeintrag

Inhaltsbeschreibung: Im 10. Jahrhundert wurde Mogadischu als Handelsstadt von arabischen Kolonisten gegründet und entwickelte sich zu einem bedeutenden Zentrum in der arabischen Welt. Anfang des 20. Jahrhunderts war Somalia und somit auch Mogadischu eine italienische Kolonie. 1960 wurde Mogadischu als Hauptstadt des unabhängigen Somalias ernannt und erlebte in den folgenden Jahrzehnten einen enormen wirtschaftlichen und gesellschaftlichen Aufschwung. 1991 brach ein Bürgerkrieg aus von den sich das Land bis heute nicht richtig erholt hat. In den letzten Jahren stabilisierte sich die Lage und es konnten sogar freie Wahlen abgehalten werden.

Rechtliche Verfügbarkeit: öffentlich

Link: <https://de.wikipedia.org/wiki/Mogadischu#Geschichte>

**Titel: Klima- und Temperaturdiagramm Mogadischu**

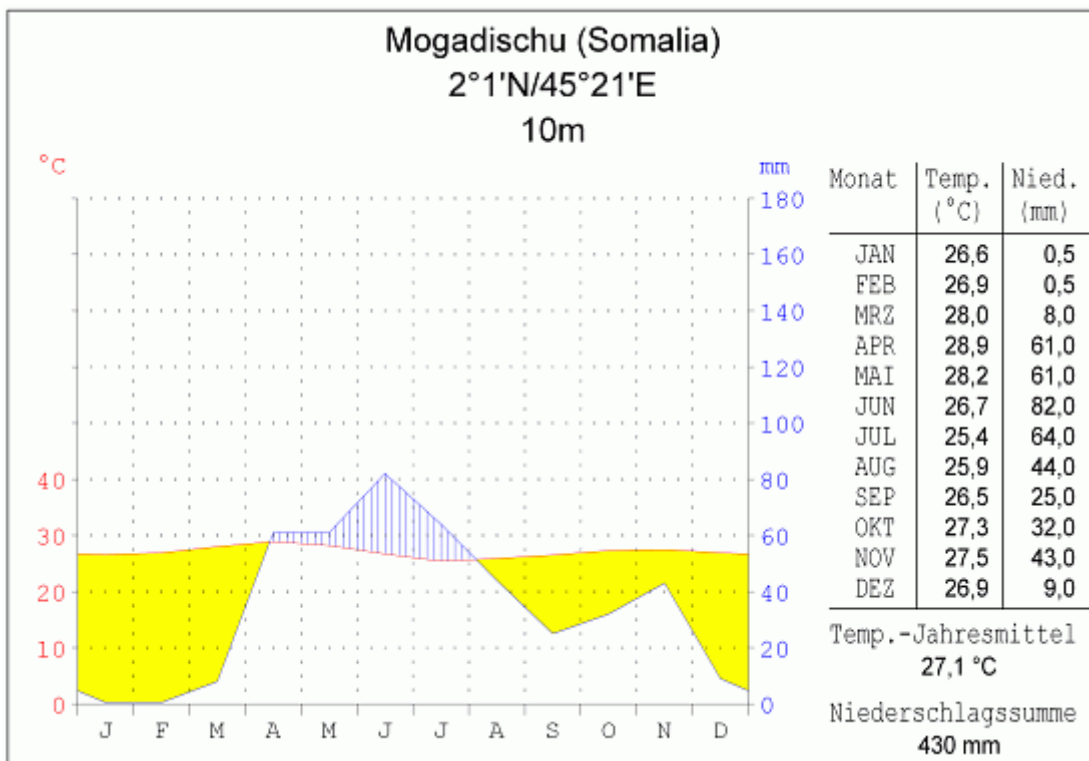
Typ: Diagramm

Beschreibung: Obwohl sich Mogadischu sehr nahe am Äquator befindet, ist das Klima mit einem Jahresniederschlag von zirka 430 Millimeter sehr trocken. Der meiste Niederschlag fällt in den Sommermonaten, während es in den Wintermonaten so gut wie keinen Niederschlag gibt. Dafür ist die Temperaturkurve ganzjährig relativ konstant auf einem Niveau von 27 Grad Celsius.

Rechtliche Verfügbarkeit: Gesamtverband der Deutschen Versicherungswirtschaft

Link:

[http://www.tis-gdv.de/tis/transportrelationen/klimadiagramme/mogadischu\\_somalia.gif](http://www.tis-gdv.de/tis/transportrelationen/klimadiagramme/mogadischu_somalia.gif)



Beobachtungs- oder Erkundungsaufträge für S/S für jeden der Standorte formulieren.  
AFB I: nenne, beschreibe, fasse zusammen, ... - inkl. Erwartungshorizont

- 1. Beschreibe die Bevölkerungsentwicklung von Mogadischu . (AFB I)**  
(Erwartungshorizont: S/S sollen Diagramme beschreiben können)
- 2. Nenne die Wirtschaftssektoren die in Kinshasa sehr ausgeprägt sind.**  
(Erwartungshorizont: Tertiärer-Sektor: Handel mit Textilien, Rohstoffen, Holz,
- 3. Zähle drei Branchen auf, die dem Verarbeitendem-Gewerbe zugeordnet werden können. (AFB I)**  
(Erwartungshorizont: Textilproduktion, Zementherstellung, Verarbeitung von Rohstoffen, Papierproduktion )
- 4. Fasse die wichtigsten Daten der Städte Kinshasa und Mogadischu zusammen. (AFB I)**  
(Erwartungshorizont: Einwohner, Wirtschaft, geographische Lage, historische Entwicklung etc.)

Arbeitsaufträge für S/S zum Vergleich dieser Standorte formulieren.  
AFB II: vergleiche, unterscheide, analysiere, ... - inkl. Erwartungshorizont

- 1. Analysiere weshalb trotz des Bürgerkrieges in Somalia die Bevölkerungszahl Mogadischus gestiegen ist.**  
(Erweiterungshorizont: Da die somalische Hauptstadt im Vergleich zum Rest des Landes sicherer ist/war. Daher konnten Hilfsorganisationen in Mogadischu mehr Engagement zeigen als in abgelegenen Regionen des Landes und die Menschen flüchteten somit vermehrt in die Hauptstadt.
- 2. Begründe warum die Kolonialzeit unter den Belgiern bis heute das Leben der Menschen in Kinshasa prägt.**  
(Erwartungshorizont: Da bis heute Französisch die am weitesten verbreitete Sprache und der christliche Glaube die dominierende Religion in Kinshasa sind)
- 3. Vergleiche die Klima- und Temperaturdiagramme der jeweiligen Städte und analysiere wo sie sich unterscheiden. (AFB II)**  
(Erwartungshorizont: Beide Städte liegen in der tropischen Klimazone. Daher sind die Temperaturkurven Kinshasas und Mogadischus ganzjährig relativ konstant und im

Bereich von 25 bis 27 Grad Celsius. Dennoch fällt in Kinshasa wesentlich mehr Niederschlag als in Mogadischu. )

Eine dazu passende Unterrichtsskizze verfassen: Autor, CC-Angabe, Titel, Klasse und Lehrplanbezug falls möglich, Feinlernziele, Verzeichnis aller Materialien/Medien

## Stundenskizze

Unterrichtsgegenstand	Geographie- und Wirtschaftskunde
Thema	Leben und Wirtschaften der Menschen
Schule	Khevenhüller Gymnasium Linz
Klasse	7R
Lehrer	Andreas Leitner
E-Mail	a.leitner97@gmx.at
erstellt am	28. Mai 2020
Lehrplanbezug	Österreich – Raum – Gesellschaft – Wirtschaft
Dauer	1-2 Unterrichts-Einheiten
Feinziele	

- Schülerinnen und Schüler können selbständig Arbeitsaufträge erarbeiten und zusammenfassen.
- Schülerinnen und Schüler erklären gesamtwirtschaftliche Leistungen und Probleme, sowie Wirtschafts- und Sozialpolitik unterschiedlicher Städte.
- Schülerinnen und Schüler vollziehen das Zustandekommen wirtschaftlicher Daten nach und beurteilen deren Aussagekraft
- Schülerinnen und Schüler sollen Hauptmerkmale von Klimadiagrammen analysieren, vergleichen und verstehen können.
- Schülerinnen und Schüler lesen und vergleichen Statistiken, wie zum Beispiel: Klimadiagrammen

Materialien:

Internetartikeln, Diagramme (Statistik Austria), Atlas bzw. Google Earth