

Mit Geoinformationen Österreich erkunden St. Michael im Lungau

**Digitale Information und Kommunikation in Raum, Gesellschaft
und Wirtschaft** 

Gruber Ulrike
0922726





2014

Mag. Alfons Koller

1. Kriteriengestützte Raumanalyse

STANDORT	St. Michael im Lungau
gg. Koordinaten des Mittelpunktes	N 47°05'49.7" O 13°38'20.87"
Länge und Breite des Ausschnitts (in km)	ca. 3 km x 5,3 km

BESCHREIBUNG – CONTAINERRAUM (RAUMBEGRIFF 1) - ERKENNEN DER RAUMSTRUKTUR (RAUMBEGRIFF 2)

01	Höhenlage <ul style="list-style-type: none"> • Höchster Punkt 2560m (Weißeneck) • Tiefster Punkt 1032m (Golfplatz)
02	Reliefform (Kategorien für Österreich & Europa) <ul style="list-style-type: none"> • Hochgebirge • Mittelgebirge • Hügelland • Ebene  Michael liegt auf 1075m Seehöhe im Murtal, am Fuße des Skigebietes Grosseck-Speiereck, sowie Katschberg-Aineck. Es liegt auf einem Hochplateau, eingebettet in die Bergwelt der Niederen Tauern und der Nockberge mit sieben Seitentälern, sowie Gipfeln bis zu 2500 m Höhe. Hohe Reliefenergie
03	Reliefenergie 
04	Raumnutzung <p>Der gewählte Ausschnitt kann grob unterteilt werden in:</p> <ul style="list-style-type: none"> • Ödland 45% Felder/ Äcker  • Wald Flurformen • Wiese 35% Waldflächen • Felder/Äcker, Flurformen Produkte aus landwirtschaftlicher Karte 20% Siedlungen, Siedlungsformen, Verkehrsflächen,...  • Siedlungen, Siedlungsformen s.u. • Verkehrsflächen


05

Siedlungsdichte

- Abstand zum Nachbarn
Der Häuserabstand beträgt durchschnittlich geschätzte 10-15 m
- Anzahl der Geschosse
Durchschnittlich haben die Häuser: Kellergeschoss, Erdgeschoss und ausgebautes Dachgeschoss

06

Ortsformen

- Streulage
 - Weiler – Dorf
 - Verstädterte Region
- Die Streulage ist zwar vorhanden aber nicht sehr stark ausgeprägt. Es gibt einen Ortskern, ein paar Siedlungen, welche sich ein bisschen ausserhalb des Kerns befinden und ein paar Weiler. Die verstädterte/industrielle  Region liegt an der Hauptstraße und in der Nähe des Ortskerns, kurz vor dem Hauptkreisverkehr. Von richtiger Verstädterung kann man bei dieser Marktgemeinde nicht sprechen.

07

Zentralität (Zentralraum -
Peripherie; früher Stadt -
Land)



- Abstand zum nächsten zentralen Ort
Der nächst gelegene Ort ist Katschberg und liegt 5,7 km auf der B99 entfernt. Fast gleich weit, nämlich 5,9 km liegt St. Margarethen im Lungau entfernt.
- Abstand zum nächsten Bahnhof, zum Bahnhof einer überregionalen Verbindung
Nächster Bahnhof ist der Bahnhof Tamsweg der Steiermärkschen Ladesbahnen und liegt 15,4 km entfernt.
- Abstand zur nächsten Autobahnauffahrt
Autobahnauffahrt St. Michael im Lungau liegt im Gemeindegebiet (A10 Tauernautobahn)
- Abstand zum nächsten Flughafen
Der nächst gelegene Flughafen ist in Salzburg und 108 km mit dem Auto entfernt.

08

Erkennbare Infrastruktur

- für Verkehr
Autobahn(auffahrt)
2 wichtige Straßen = Murtalstraße 96 & die Katschbergstraße 99
- für zentralen Ort
Bildungseinrichtungen (Kindergarten, Volksschule, Neue Mittelschule, Musikum, Schischule...) sind vorhanden. Es gibt mehr als eine Kirche und das nächst gelegene Krankenhaus befindet sich in Tamsweg. Es gibt zahlreiche Gasthöfe, Hotels und Ferienhäuser, welche für Sommer- und Wintertourismus geeignet sind.
- für Tourismus
Es herrscht viel Sommer- und Wintertourismus

Literaturverzeichnis

LAND SALZBURG (2014): Gemeindezahlen 2014 Allgemein. Strukturdaten der Salzburger Gemeinden.

http://www.salzburg.gv.at/gemeinde_statistik_daten_allgemein2014-folder.pdf

TOURISMUSVERBAND ST. MICHAEL IM LUNGAU (2014): St. Michael im UNESCO Biosphärenpark Lungau der Geheimtipp auf 1075m! Das Salzburger Urlaubsparadies für die ganze Familie- im Herzen von Österreich. <http://www.sanktmichael.eu/de/startsite-winter-second/?PHPSESSID=59c4df3f9413c239e11dd3735102e3f6> >

GOOGLE MAPS (2014): Katschberg. https://www.google.at/maps/place/Katschberg/data=!4m2!3m1!1s0x4770c39aa92a614d:0x37f62140a2e8ac4?sa=X&ei=8_d-VNiAO8GC7gbho4DQBQ&ved=0CIYBEPiBMAs

Tourismus auf Webseiten

Auf der Hauptseite der Marktgemeinde St. Michael im Lungau www.sankt-michael.at bekommt man einen **guten Überblick und einen netten Einblick in die Gemeinde**, ohne dort gewesen sein zu müssen. Man kann online das Gemeindeamt kontaktieren, aber es gibt auch die Beschreibung von Tourismus, Wirtschaft, Partnergemeinde, der Kirche und der Pfarre, sowie eine Auflistung aller weiteren interessanten Begriffe von A bis Z. Auch das aktuelle Wetter und die kommenden Veranstaltungen werden immer angezeigt. Dadurch fungiert diese Website auch als Plattform für die Gemeinde, durch welche man Termine ausfindig kann. Hier steht die soziale Kommunikation besonders im Vordergrund.

Klickt man auf den Button *Tourismus*, wird man auf die offizielle Seite des Tourismusverbandes der Marktgemeinde weitergeleitet, welche sich ausschließlich mit dem Tourismus in St. Michael beschäftigt.

Momentan werden nur Winterbilder im Hintergrund gezeigt. Es kann also sein, dass diese Website Winter- und Sommerbilder, je nach aktueller Jahreszeit zeigt und somit beide Tourismuszeiten abdeckt.

St. Michael ist besonders für seine schönen und bekannten Abfahrten bekannt, wie Katschberg und Speiereck. Auf der Hauptseite der Gemeinde wird neben dem Tourismuszeiten (Sommer & Winter) auch damit geworben, dass diese in einem UNESCO Biosphärenpark liegen. Ausserdem wird es als *Urlaubsparadies für die ganze Familie* bezeichnet. Man kann sich sofort einen Überblick über Freie Unterkünfte, Events und Pauschalangebote machen, sowie einen virtuellen Rundgang antreten. Dadurch bekommt man einen sehr realen scheinenden und guten Einblick.

Klickt man auf den Button *Winter* wird einem St. Michael als Tor zu einer einzigartigen alpinen

Bergwelt angepriesen. Weiters ist sie wie hier beschrieben die sonnenreichste Region Österreichs mit angenehmen Klima auf 1000 m Seehöhe und bietet zu jeder Zeit vielfältige Erholungs-, Aktiv und Erlebnismöglichkeiten an. Mit diesen drei Möglichkeiten scheint St. Michael im Lungau also fast alles, was man sich von einem Urlaub im Winter erwartet abzudecken.



Diese Bild findet man auf dieser Seite. Weiters gibt es Schneeberichte, Skiverleih, Schischulen, Schibusse sowie Informationen zu alpiner Sicherheit. Auch Restaurants und wie man den Winter abseits der Pisten verbringen kann wird hier erklärt.

Klickt man auf den Button *Sommer* findet man die Bezeichnung *Fitness-Center ohne Dach*. Hier wird der Biosphärenpark als Himmel auf Erden für die Bergliebhaber angepriesen, da es über 350 km Fußwege gibt. Diese drei sehr idyllischen Bilder zeigen die schönsten Seiten der Marktgemeinde.



Neben dem Wandern, kann man auch Radfahren, sowie Golfspielen und Raftigtouren unternehmen.


Es gibt hier ein breites Angebot und auch speziell Familien werden durch einen eigenen Button angeworben. Weiters wird mit dem Bauernherbst ein weiterer Faktor abgedeckt, nämlich die Zeit zwischen Sommer und Winter. Mit vielen Fotos von Kindern und Menschen bei traditionellen Veranstaltungen, bekommt man hier das Gefühl der familiären Unterhaltung und des Brauchtums. Was auch auf dieser Website angeboten wird, sind Informationen zu öffentlichen oder privaten Verkehrsmittel, sowie die dazugehörigen Tarife und die Preise für andere Aktivitäten wie zum Beispiel eine Schikarte. Der Virtuelle Rundgang ist ein besonderes Highlight. Hier kann man von verschiedenen Punkten der Marktgemeinde eine kleine Übersicht erhaschen und bekommt einen guten Eindruck der Gebäude und der Landschaft.



Der Tourismus wird in dieser Region also sehr beworben. Ob im Winter oder Sommer, man hat das Gefühl man findet hier Entspannung, Unterhaltung und Ruhe zugleich.

Google Earth Lernpfad

1	Öffne die Datei <i>Google Earth</i> und klicke unter <i>Meine Orte</i> den Ordner <i>Arbeitsauftrag St. Michael im Lungau</i>	
2	Beantworte folgende Fragen:	

	<ul style="list-style-type: none">  In welchem Bundesland und in welchem Gau liegt dieser Ort? Wie heißt der nächst gelegene Ort und wie weit ist dieser vom Ortskern entfernt? Welche Raumnutzung (1.)Felder/ Äcker, Flurformen, 2.)Waldflächen, 3.)Siedlungen, Siedlungsformen, Verkehrsflächen,...) ist vorherrschend und mit wie viel Prozent würdest du diese dotieren? 	
3	Klicke auf den Button <i>Katschberghöhe</i> . In welchen zwei Bundesländern liegt der Katschberg? Zeichne mit Hilfe von Google Maps die ungefähre Grenze zwischen den beiden Bundesländern am Katschberg ein! Klicke dazu auf den gelbe Ortsmarkierung <i>Katschberghöhe</i> , und auf den dort platzierten Link. Dann klicke auf das Zeichen oben in der Leiste, welches aus drei mit Linien verbundenen Punkte besteht (<i>Pfad</i>) und versuche ungefähr die Grenze durch setzen von Punkten auf dem Satellitenbild zu „zeichnen“!	
4	Gehe auf den Kreisbutton mit dem Fragezeichen und beantworte die Fragestellung mit Hilfe des Internets!	
5	Wieviele Einwohner hat diese Marktgemeinde wohl? Schätze zuerst anhand der Ansicht der Häuser in Google Earth (sei ehrlich, so ist es lustiger) und suche danach im Internet nach der tatsächlichen Zahl. Wieweit hast du daneben gelegen? Hast du zuviel oder zu wenig geschätzt?	
6	Welche Tourismusarten sind in dieser Gemeinde vorherrschend? Welche Gebiete werden dafür besonders genützt? (3) Markiere die drei Gebiete mit einer Stecknadel. Du findest die Anwendung dafür in der obere Leiste (Gelbe Stecknadel)! Benenne die Nadel, du kannst rechts neben dem Namenskästchen auf die gelbe Stecknadel klicken und eine andere passende Form wählen! Warst du schon einmal in einem der Gebiete? Zu welcher Jahreszeit? Teile deine Erfahrungen (Wie hat es dir gefallen?) mit deinem Nachbar, oder Arbeitspartner!	
7	Würdest du in deiner Freizeit nach St. Michael im Lungau fahren? Wenn ja, warum? Wenn nein, warum nicht? Wie verläuft der schnellste Weg von dir Zuhause in die Marktgemeinde?	